

2 bolha



8 bolha



5 bolha




4 bolha



1 bolha




2 bolha



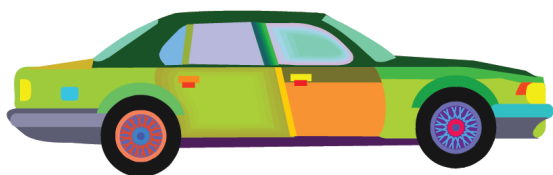
6 bolha




3 bolha



7 bolha



4 bolha



3 bolha

Peti 9 bolháért vásárolt 2 játékot. Mennyibe kerülhetett az egyik, mennyibe a másik? Írjátok be a táblázatba!

egyik játék									
másik játék									

Ha csak az egyik játékot vette meg, mennyi bolhája maradhatott? Írjátok le kivonással!

9	-	1	=	8															

Zsuzsinak 7 bolhája volt, de néhányat elvesztett belőlük. Mennyit veszíthetett el, és mennyi maradhatott?

elveszett bolha							
megma- radt bolha							

7	-		=	

