

---

# MUTASD A RUHÁD, MEGMONDOM, KI VAGY!

---

## Éghajlat és öltözködés

---

A modul típusa:	Magyar mint idegen nyelv
Modulszám:	6.
Nyelvi szint:	A1–
Életkor:	10–12 év
Készítették:	Juhász Lászlóné, Nagyházi Bernadette

A kiadvány az Educatio Kht. kompetenciafejlesztő oktatási program kerettanterve alapján készült.

A kiadvány a Nemzeti Fejlesztési Terv Humánerőforrás-fejlesztési Operatív Program 3.1.1. központi program (Pedagógusok és oktatási szakértők felkészítése a kompetencia alapú képzés és oktatás feladataira) keretében készült, a sulinova oktatási programcsomag részeként létrejött tanulói információhordozó. A kiadvány sikeres használatához szükséges a teljes oktatási programcsomag ismerete és használata.

A teljes programcsomag elérhető: [www.educatio.hu](http://www.educatio.hu) címen.

Szakmai vezető: Kuti Zsuzsa

Szakmai bizottság: Enyedi Ágnes, Dr. Morvai Edit, Dr. Majorosi Anna

Alkotószervező: Sákovics Lídia

Szakértő: Dr. Kárpáti Tünde

Felelős szerkesztő: Burom Márton

©

Szerzők: Bak Mónika, Juhász Lászlóné, Mudra Viktória, Nagyházi Bernadette

**Educatio Kht. 2008**

## 1.1. SZÓKÁRTYÁK

**január**

**február**

**március**

**április**

**május**

**június**

**július**

**augusztus**

**szeptember**

**október**

**november**

**december**

## 1.2. KÉP

- 1.2. Rajz 1: rajzon négy csapadékfajta ismerhető fel: esik a hó, esik az eső, havas eső esik (az eső közé hópelyhek keverednek), jégeső esik (az eső közé apró jégdarabok keverednek) (sz)
- 1.2. Rajz 2: a hőmérőkön a következő hőmérsékletek láthatóak:  $-10^{\circ}\text{C}$ ,  $+2^{\circ}\text{C}$ ,  $+15^{\circ}\text{C}$ ,  $+28^{\circ}\text{C}$  (sz)
- 1.2. Rajz 3: a napsugárzás különböző formái láthatóak: báránnyfelhők között süt a nap, erősen tűz a nap, sötét felhők mögül kikandikál a nap, szürke, összefüggő felhőzet (sz)
- 1.2. Rajz 4: a szélfajták ismerhetőek fel: gyenge szél fúj (a fák kissé meghajolnak a szélben), havat hord a szél (hófúvás látható), lengedezik a szél (a fák nem, csak a földön nyíló virágok hajlanak meg a szélben), viharos szél fúj (a fák és virágok erősen meghajolnak a szélben) (sz)

## ÉVSZAKOK – POSZTER

Rajz 5: Évszakok poszter.

A poszteren mindegyik évszokról komplex kép látható:

**nyár:** a tavon egy család csónakázik, a tóparton napozó és labdázó gyerekek és felnőttek, egy apa homokvárat épít a fiával, erősen süt a nap, néhány felnőtt és gyerek úszik a tóban.

**ősz:** a fák levelei őszi színekben pompáznak, egy anya gyermekével esernyőt tartva, hazafelé megy, erősen felhős az ég, esik az eső, párás a levegő

**tavas:** a padon egy család ül, a parkban gyerekek fogócskáznak, az égen bárányméhek vannak, rügyeznek és virágoznak a fák, süt a nap.

**tél:** a befagyott tavon két gyerek korcsolyázik, a domboldalról egy gyerek sítalpon csúszik le, esik a hó, három gyerek szánkózik, két gyerek hóembert épít. (sz)

## 2.3. SZÓKÁRTYÁK

**bakancs**

**bikini**

**blúz**

**cipő**

**csizma**

**dzseki**

**esőkabát**

**farmernadrág**

**farmerszoknya**

**fürdőnadrág**

**fürdőruha**

**garbó**

**ing**

**kabát**

**kalap**

**kardigán**

**kesztyű**

**magassarkú cipő**

**mellény**

**nadrág**

**poló**

**pulóver**

**rövidnadrág**

**ruha**

**sál**

**sapka**

**síszemüveg**

**sportcipő**

**szabadidő ruha**

**szalmakalap**

**szandál**

**szoknya**

# télikabát

## 2.6. FELADATLAP

a) Találd ki, milyen ruhadarabokat rejtenek az ábrák!

2.6. Rajz 6:  
szabásminta, amiből  
kivehető egy női ruha  
rajza (ff)

2.6. Rajz 7:  
szabásminta, amiből  
kivehető egy férfi  
télikabát rajza (ff)

2.6. Rajz 8:  
szabásminta, amiből  
kivehető egy kislány  
rövinadrág-póló  
együttes rajza (ff)

b) Egészítsétek ki a szöveget! Válasszatok az alábbi képek közül!

2.6. Rajz 9: Téli és nyári ruhadarabok rajza nagy összevisszaságban: bikini, fiú strandpapucs, télikabát, sapka, zokni, bugyi, alsónadrág, fiú pizsama, hálóing, farmer, farmerszoknya, fiú- és lánypóló, rövidnadrág lánynak, rövidnadrág fiúnak, lány strandpapucs, fürdőnadrág, fiú pulóver, lány kardigán, fiú dzseki, sál, lány strandpapucs, garbó fiúnak, egy pár fiúkesztyű (ff)

Panni a nyári szünetben nyári táborba megy. Bepakol a bőröndjébe. Nagyon meleg lesz. Tesz bele .....

.....  
.....  
.....

Tavasz van. Peti elteszi a szekrény aljába a téli ruhákat. Elteszi a .....

.....  
.....  
.....  
.....

### 3.3.A FELADATLAP

#### Milyen tárgyak vannak a képeken?

3.3. A Rajz 10: aktatáska, fülbevaló, gyűrű, hajcsat, karkötő, karóra, napszemüveg, női táska, nyakkendő, nyaklánc, öv, szemüveg, zsebkendő (ff)

Mit viselhetnek ezek az emberek? Egészítsd ki a rajzokat, majd írd a vonalakra!

<p>.....</p> <p>.....</p> <p>.....</p> <p>.....</p> <p>.....</p> <p>.....</p> <p>.....</p> <p>.....</p> <p>.....</p> <p>.....</p> <p>.....</p> <p>.....</p> <p>.....</p> <p>.....</p> <p>.....</p>	<p>3.3. A Rajz 11: női alak, hangsúlyos a haj és a fej, valamint a kezek, mert ide kell a tanulóknak rajzolni (ff)</p>	<p>3.3. Rajz 12: férfialak; hely kell a nyakken- dőnek, díszzseb- kendőnek, övnek is! (ff)</p>	<p>.....</p> <p>.....</p> <p>.....</p> <p>.....</p> <p>.....</p> <p>.....</p> <p>.....</p> <p>.....</p> <p>.....</p> <p>.....</p> <p>.....</p> <p>.....</p> <p>.....</p> <p>.....</p> <p>.....</p>
--	--	--	--

### 3.3. SZÓKÁRTYÁK

**aktatáska**

**fülbevaló**

**gyűrű**

**hajcsat**

**karkötő**

**karóra**

**napszemüveg**

**női táska**

**nyakkendő**

**nyaklánc**

**öv**

**szemüveg**

**zsebkendő**

### **3.4. KÉPKÁRTYÁK**

- 3.4. Rajz 13: magyar népviselet: a képen kalocsai népviseletbe öltözött lány és fiú (sz)
- 3.4. Rajz 14: orosz népviselet: a képen orosz népviseletbe öltözött lány és fiú (sz)
- 3.4. Rajz 15: bajor népviselet: a képen bajor népviseletbe öltözött lány és fiú (sz)
- 3.4. Rajz 16: skót népviselet: a képen osztrák (tiroli) népviseletbe öltözött lány és fiú (sz)

### **4.3. RÉGI KOROK DIVATJA – POSZTER**

4.3.. Régi korok divatja poszter. Egy poszteren hat db kép, keretben, amelyek együtt szinte teljesen betöltik a lapot

4.3. Rajz 17: ősember; női és férfialak, az ősember feltételezett ruhadarabjaiban (sz)

4.3. Rajz 18: római viselet; tógát viselő férfi, és nőalak ókori római ruhában (sz)

4.3. Rajz 19: gótikus pár; a gótikára jellemző ruhadarabokat viselő női és férfialak (sz)

4.3. Rajz 20: biedermeier pár; polgári öltözéket viselő pár, biedermeier stílusú ruhában. (sz)

4.3. Rajz 21: pár az 1920-as évek stílusában (sz)

4.3. Rajz 22: pár hippie öltözékben (sz)

## 5.5. FELADATLAP

a) Írd le az évszakokhoz tartozó hónapok nevét!

nyár: \_\_\_\_\_

ősz: \_\_\_\_\_

tavaszi: \_\_\_\_\_

tél: \_\_\_\_\_

b) Írd le, hogy milyen öltözéket kell viselni télen!

---


---

---

---




---

c) Rajzold be a fő szélességi köröket, írd a megfelelő helyre az éghajlati öveket!



## 5.6. FELADATLAP

Mit tanultál? Mennyire tudod? Jelöld a táblázatban!

	Hogyan tudok...?		
<b>Mit tudok?</b>			
Tudom az évszakok és a hónapok nevét.			
Meg tudom nevezni a színeket.			
Ismerem a Föld fő szélességi köreit.			
Meg tudom nevezni az éghajlati öveket.			
Tudom sok nyári ruha magyar elnevezését.			
Tudom sok téli ruha magyar elnevezését.			
Ismerek néhány népviseletet.			
Ismerem néhány anyag nevét.			
Tudok beszélni a divatról.			

## KIRAKÓ: JOBB MA EGY LÚDNYAK KÉT TYÚKNYAKNÁL

Rajz 23: Kirakó: Jobb egy lúdnyak két tyúknyaknál

A kirakó két külön lapból áll: egy alaplapból, amit megkapnak a tanulók, és egy kirakóból, amit a tanár darabonként oszt ki a tanulóknak. A tanulók egy egyoldalas alaplapot kapnak, amelyen egy 4X5-ös négyzetrács található. Minden négyzet közepén egyetlen szám legyen, sorban, 1-től 20-ig.

Az alaplappal megegyezően a kirakó képét is négyzetrácsozni és számozni kell, hogy azt a tanár az alaplappal megegyező, azonos méretű darabokra tudja vágni. A kirakódarabok számozása egyezzen meg az alaplap számozásával, de a számok a kirakó hátoldalán, a bal felső sarkokban legyenek (kicsi számok kelljenek). A kirakó kétoldalas: egyik oldalon egy szabályos, 20 darabos négyzetrács-háló, a másik oldalon a szabályos, 20 darabos négyzetrács-hálóra van elkészítve a kép. A hátsó oldal (tehát ahol csak a négyzetrács-háló van) a bal felső saroktól kezdődően számozott 1-20-ig, és 20 egyenlő részre vágható fel. A számok ne legyenek túl nagyok.

A rajz a következőképpen nézzen ki: a kép bal oldalán egy jól felismerhető lúd, nyakának teljes hosszában kapcsos zárójel, jelezve, hogy az a hangsúlyos testrésze. A kép jobb oldalán két tyúk rajza látható, szintén egy-egy kapcsos zárójel hangsúlyozza a nyakukat. Középen, az állatrajzok között, egy relációs jel (kacsacsőr) van, melynek nyitott fele a lúd felé mutat, jelezve, hogy az ér többet.

A képen a nyelvtörő szövegét is el kell helyezni: *Jobb egy lúdnyak két tyúknyaknál.*

Az elhelyezésből legyen egyértelmű, milyen sorrendben kell elolvasni a nyelvtörő részleteit!

A 20 db rács mindegyikébe kerüljön valami: egy-egy rajzrészlet, illetve a nyelvtörő (*Jobb egy lúdnyak két tyúknyaknál.*) egy-egy szava. (sz)



